

TÉCNICO(A) DE CONTABILIDADE JÚNIOR

LEIA ATENTAMENTE AS INSTRUÇÕES ABAIXO.

- 01 - Você recebeu do fiscal o seguinte material:
- a) este **CADERNO DE QUESTÕES**, com o enunciado das 50 (cinquenta) questões objetivas, sem repetição ou falha, com a seguinte distribuição:

Conhecimentos Básicos						Conhecimentos Específicos	
Língua Portuguesa		Matemática		Informática I		Questões	Pontuação
Questões	Pontuação	Questões	Pontuação	Questões	Pontuação		
1 a 10	1 cada	11 a 15	1 cada	16 a 20	1 cada	21 a 50	1 cada
Total: 20 pontos						Total: 30 pontos	

b) **CARTÃO-RESPOSTA** destinado às respostas das questões objetivas formuladas nas provas.

- 02 - Verifique se este material está em ordem e se o seu nome e o seu número de inscrição conferem com os que aparecem no **CARTÃO-RESPOSTA**. Caso contrário, notifique o fato **IMEDIATAMENTE** ao fiscal.
- 03 - Após a conferência, o candidato deverá assinar, no espaço próprio do **CARTÃO-RESPOSTA**, com caneta esferográfica transparente de tinta na cor preta.
- 04 - No **CARTÃO-RESPOSTA**, a marcação das letras correspondentes às respostas certas deve ser feita cobrindo a letra e preenchendo todo o espaço compreendido pelos círculos, com **caneta esferográfica transparente de tinta na cor preta**, de forma contínua e densa. A **LEITORA ÓTICA** é sensível a marcas escuras; portanto, preencha os campos de marcação completamente, sem deixar claros.
- Exemplo: (A) ● (C) (D) (E)
- 05 - Tenha muito cuidado com o **CARTÃO-RESPOSTA**, para não o **DOBRAR, AMASSAR ou MANCHAR**. O **CARTÃO-RESPOSTA SOMENTE** poderá ser substituído se, no ato da entrega ao candidato, já estiver danificado em suas margens superior e/ou inferior - **BARRA DE RECONHECIMENTO PARA LEITURA ÓTICA**.
- 06 - Para cada uma das questões objetivas, são apresentadas 5 alternativas classificadas com as letras (A), (B), (C), (D) e (E); só uma responde adequadamente ao quesito proposto. Você só deve assinalar **UMA RESPOSTA**: a marcação em mais de uma alternativa anula a questão, **MESMO QUE UMA DAS RESPOSTAS ESTEJA CORRETA**.
- 07 - As questões objetivas são identificadas pelo número que se situa acima de seu enunciado.
- 08 - **SERÁ ELIMINADO** desta Seleção Pública o candidato que:
- se utilizar, durante a realização das provas, de máquinas e/ou relógios de calcular, bem como de rádios gravadores, *headphones*, telefones celulares ou fontes de consulta de qualquer espécie;
 - se ausentar da sala em que se realizam as provas levando consigo o **CADERNO DE QUESTÕES** e/ou o **CARTÃO-RESPOSTA**.
 - se recusar a entregar o **CADERNO DE QUESTÕES** e/ou o **CARTÃO-RESPOSTA**, quando terminar o tempo estabelecido.
 - não assinar a **LISTA DE PRESENÇA** e/ou o **CARTÃO-RESPOSTA**.
- Obs.** O candidato só poderá se ausentar do recinto das provas após **1 (uma) hora** contada a partir do efetivo início das mesmas. Por motivos de segurança, o candidato **NÃO PODERÁ LEVAR O CADERNO DE QUESTÕES**, a qualquer momento.
- 09 - Reserve os 30 (trinta) minutos finais para marcar seu **CARTÃO-RESPOSTA**. Os rascunhos e as marcações assinaladas no **CADERNO DE QUESTÕES NÃO SERÃO LEVADOS EM CONTA**.
- 10 - Quando terminar, entregue ao fiscal o **CADERNO DE QUESTÕES** e o **CARTÃO-RESPOSTA** e **ASSINE A LISTA DE PRESENÇA**.
- 11 - **O TEMPO DISPONÍVEL PARA ESTAS PROVAS DE QUESTÕES OBJETIVAS É DE 3 (TRÊS) HORAS**, já incluído o tempo para marcação do seu **CARTÃO-RESPOSTA**, findo o qual o candidato deverá, obrigatoriamente, entregar o **CARTÃO-RESPOSTA** e o **CADERNO DE QUESTÕES**.
- 12 - As questões e os gabaritos das Provas Objetivas serão divulgados, no primeiro dia útil após a realização das mesmas, no endereço eletrônico da **FUNDAÇÃO CESGRANRIO** (<http://www.cesgranrio.org.br>).

CONHECIMENTOS BÁSICOS

LÍNGUA PORTUGUESA

Morar só por prazer

O número de residências habitadas por uma única pessoa está aumentando velozmente no Brasil e no mundo. Morar sozinho é um luxo que tem pouco a ver com solidão e segue uma tendência generalizada em países desenvolvidos. Cada vez mais gente batalha para conquistar o seu espaço individual.

Há quem diga que é coisa de eremita ou então puro egoísmo, típico da “era moderna”. Chega-se até a falar na “ruína da família” e no “fim do convívio em comunidade”. Entretanto, o crescimento no número de casas habitadas por uma só pessoa, no Brasil e no mundo, não significa necessariamente isso.

O antropólogo carioca Gilberto Velho, estudioso dos fenômenos urbanos, faz questão de enfatizar que a cultura que desponta não é marcada pelo egoísmo, mas sim pelo individualismo. Embora os dois conceitos muitas vezes se confundam no linguajar informal, e até nos dicionários, para a filosofia, o egoísmo é um julgamento de valor e o individualismo, uma doutrina baseada no indivíduo.

De acordo com a psicanalista Junia de Vilhena, ter uma casa só para si é criar um espaço de individualidade, o que é muito saudável para o crescimento pessoal de cada um, seja homem, seja mulher, jovem ou adulto, solteiro, casado ou viúvo. “Em muitas famílias não há espaço para o indivíduo. O sistema familiar pode abafar e sufocar. Não dá mais para idealizar o conceito de família. Acredito que o aumento dos lares unipessoais nos propõe uma reflexão: que tipo de família queremos construir?”

Junia lembra que nem sempre uma casa com dois ou vários moradores é um espaço de troca. Ser sociável, ou não, depende do jeito de ser das pessoas. Morar sozinho não define isso, embora possa reforçar características dos tímidos. Para os expansivos, ter um ambiente próprio de recolhimento propicia a tranquilidade que lhes permite recarregar as energias para viver o ritmo acelerado das grandes cidades.

MESQUITA, Renata. *Revista Planeta*, ed. 477. São Paulo: Editora Três, junho de 2012. Adaptado.

1

De acordo com o texto, o número de lares unipessoais está aumentando porque as pessoas

- (A) estão se tornando mais egoístas.
- (B) rejeitam a convivência em sociedade.
- (C) preferem um ritmo acelerado de vida.
- (D) pretendem se transformar em eremitas.
- (E) querem desenvolver sua individualidade.

2

O texto possui características típicas de uma reportagem porque apresenta

- (A) relatos de episódios passados
- (B) comparações entre opiniões opostas
- (C) termos técnicos de circulação restrita
- (D) depoimentos de especialistas no assunto
- (E) dados estatísticos de pesquisas realizadas

3

Segundo a opinião da psicanalista entrevistada, morar sozinho pode ser considerado um comportamento

- (A) altruísta
- (B) corajoso
- (C) comodista
- (D) benéfico
- (E) comunicativo

4

No trecho “Morar sozinho é um luxo que tem pouco a ver com solidão e segue uma tendência generalizada em países desenvolvidos.” (l. 3-5), a palavra destacada é acentuada. Duas palavras do texto recebem acento gráfico pelo mesmo motivo da referida palavra **países**.

São elas:

- (A) ruína e viúvo
- (B) egoísmo e número
- (C) saudável e única
- (D) tímidos e indivíduo
- (E) dicionários e sociável

5

No trecho “faz questão de **enfatizar** que a cultura que desponta não é marcada pelo egoísmo,” (l. 14-15), a palavra em destaque pode ser substituída, no contexto em que é empregada, sem prejuízo semântico, por

- (A) opinar
- (B) contar
- (C) destacar
- (D) contestar
- (E) desaconselhar

6

No trecho “não é marcada pelo egoísmo, **mas** pelo individualismo.” (l. 15-16), a palavra **mas** estabelece uma oposição em relação à ideia anterior, assim como ocorre com o termo destacado em:

- (A) A tecnologia pode amenizar o distanciamento **se** as pessoas solitárias buscarem contato nas redes sociais.
- (B) Algumas pessoas decidem se afastar da casa dos pais **para** ter mais liberdade de receber seus amigos.
- (C) Até há pouco tempo, homens adultos eram considerados solteirões **quando** viviam sozinhos em suas casas.
- (D) O sistema familiar pode sufocar as individualidades **porque** não há espaço para tomar decisões próprias.
- (E) Os jovens moravam com as famílias até o casamento, **porém**, atualmente, preferem morar sozinhos.

7

No trecho “o que é muito saudável para o crescimento pessoal de cada um, seja homem, seja mulher, jovem ou adulto, solteiro, casado ou viúvo” (ℓ. 23-25), as vírgulas são empregadas para separar elementos de uma enumeração, assim como em:

- (A) A liberdade de escolha do indivíduo, o divórcio, o individualismo crescente, as novas configurações familiares vêm gerando novos ideais.
- (B) Apesar da proximidade de parentes e dos amigos, às vezes, a falta de convivência pode se tornar um problema.
- (C) De acordo com os dados do IBGE, o número de pessoas morando sozinhas cresceu cerca de 30%, no Brasil, entre 2000 e 2010.
- (D) Durante as pesquisas, no século passado, o estudioso observou que as mulheres que viviam sós eram objeto de desconfiança.
- (E) Embora apreciem a autonomia, os jovens que moram sozinhos estão dispostos a se casar quando chegar o momento certo.

8

No trecho “ter um ambiente próprio de recolhimento propicia a tranquilidade que **lhes** permite recarregar as energias.” (ℓ. 36-38), a palavra destacada refere-se aos

- (A) jovens
- (B) egoístas
- (C) tímidos
- (D) eremitas
- (E) expansivos

9

O sinal indicativo de crase é obrigatório na palavra destacada em:

- (A) A maior parte dos jovens está disposta **a** se casar ao encontrar a pessoa certa.
- (B) A opção por apartamentos unipessoais levou **a** redução do preço dos imóveis.
- (C) O uso intensivo de redes sociais diminui **a** distância física entre as pessoas.
- (D) Os jovens recém-formados têm expressado **a** vontade de morar sozinhos.
- (E) Hoje há um movimento mundial crescente para conquistar **a** eterna juventude.

10

Todas as palavras estão corretamente escritas, de acordo com a norma-padrão da Língua Portuguesa, em

- (A) analisar, pesquisar, anestésiar
- (B) atrás, admissão, canção
- (C) concurso, atravez, atenção
- (D) promessa, progresso, apazar
- (E) trânsito, atrazo, empresa

MATEMÁTICA

11

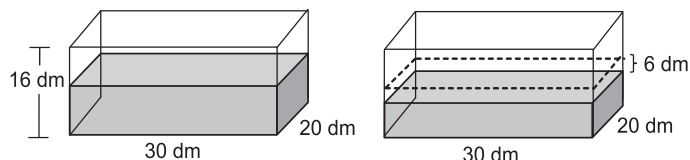
O gerente de vendas de certa empresa tem 32 funcionários em sua equipe, dos quais 12 são mulheres.

Se esse gerente escolher aleatoriamente um dos integrantes da sua equipe, qual a probabilidade de que a pessoa escolhida seja do sexo masculino?

- (A) $\frac{11}{16}$
- (B) $\frac{5}{8}$
- (C) $\frac{3}{8}$
- (D) $\frac{3}{4}$
- (E) $\frac{1}{4}$

12

Um reservatório em forma de paralelepípedo, com 16 dm de altura, 30 dm de comprimento e 20 dm de largura, estava apoiado sobre uma base horizontal e continha água até a metade de sua capacidade. Parte da água foi consumida e, assim, o nível da água baixou 6 dm, como mostra a Figura a seguir.



Quantos litros de água foram consumidos?

- (A) 1.800
- (B) 2.400
- (C) 3.600
- (D) 5.400
- (E) 7.200

13

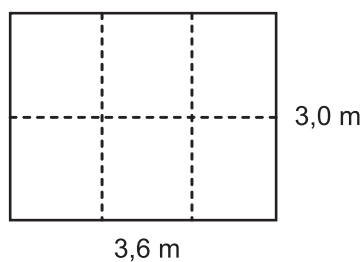
Maria vende salgados e doces. Cada salgado custa R\$ 2,00, e cada doce, R\$ 1,50. Ontem ela faturou R\$ 95,00 vendendo doces e salgados, em um total de 55 unidades.

Quantos doces Maria vendeu?

- (A) 20
- (B) 25
- (C) 30
- (D) 35
- (E) 40

14

Para fazer uma pequena horta, Pedro dividiu uma área retangular de 3,0 m de comprimento por 3,6 m de largura em seis partes iguais, como mostra a Figura abaixo.



Qual é, em m^2 , a área de cada parte?

- (A) 0,3
- (B) 0,6
- (C) 1,2
- (D) 1,8
- (E) 3,0

15

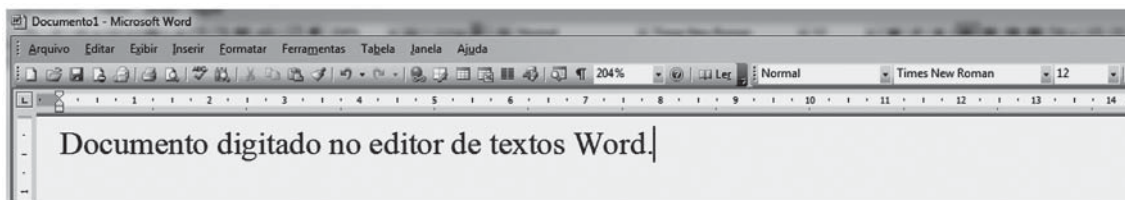
Ao comprar seis balas e um bombom, Júlio gastou R\$ 1,70. Se o bombom custa R\$ 0,80, qual é o preço de cada bala?

- (A) R\$ 0,05
- (B) R\$ 0,15
- (C) R\$ 0,18
- (D) R\$ 0,30
- (E) R\$ 0,50

INFORMÁTICA I

Para responder às questões de nºs 16 a 18, tenha por base a suíte Microsoft Office 2003.

16



No aplicativo Word, a indicação Times New Roman, na barra de ferramentas, como mostra a Figura acima, representa, em relação ao texto, o tipo de

- (A) plano de fundo
- (B) tabulação do parágrafo
- (C) fonte em uso
- (D) cabeçalho e rodapé
- (E) documento

17

No aplicativo Excel, dentre os comandos que podem ser aplicados em uma planilha através do menu Inserir, por padrão, **NÃO** se inclui o seguinte:

- (A) Células...
- (B) Função...
- (C) Gráfico...
- (D) Símbolo...
- (E) Subtotais...

18

Na suíte Microsoft Office, entre os comandos que são comuns, por padrão, aos aplicativos Excel, PowerPoint e Word, inclui-se o seguinte:

- (A) Visualizar impressão
- (B) Testar intervalos
- (C) Exibir apresentação
- (D) Botões de ação
- (E) Auditoria de fórmulas

19

Na internet, para visualização de sites, são usados programas navegadores, tais como o

- (A) Adobe Reader
- (B) Mozilla Firefox
- (C) Office Publisher
- (D) Outlook Express
- (E) Windows Explorer

20

Os navegadores de internet atuais possuem, por padrão, algumas ferramentas de proteção, dentre as quais tem-se a(o)

- (A) Navegação por cursor, do navegador da Google
- (B) Panda firewall, do navegador da Apple
- (C) Windows CardSpace, do navegador da Microsoft
- (D) Filtro SmartScreen, do navegador da Microsoft
- (E) Filtro Avast, do navegador Google

CONHECIMENTOS ESPECÍFICOS

21

Sebastião emprestou R\$300,00 para Carlos, mas cobrou juros simples de 5% ao mês. Carlos quitou a dívida (R\$ 300,00 + juros) depois de quatro meses.

Quanto Carlos pagou de juros?

- (A) R\$ 15,00
- (B) R\$ 60,00
- (C) R\$ 75,00
- (D) R\$ 90,00
- (E) R\$ 150,00

22

Dois pintores, João e José, foram contratados para pintar uma área de 240 m². João pintou 45% dessa área, e José, a área restante.

Quantos metros quadrados foram pintados por José?

- (A) 108
- (B) 120
- (C) 132
- (D) 144
- (E) 156

23

Para fazer determinado tipo de biscoitos, utilizam-se 100 g de manteiga para cada 250 g de farinha de trigo.

Mantendo-se essa proporção, se uma cozinheira utilizar 500 g de manteiga, quantos gramas de farinha ela precisará utilizar?

- (A) 1.250
- (B) 750
- (C) 650
- (D) 400
- (E) 200

24

Marcos foi ao mercado comprar leite. Cada litro custava R\$ 2,00, mas, nesse dia, havia uma promoção: comprando dois litros, seria dado um desconto de 15%. Ele aproveitou a promoção e comprou dois litros de leite.

Qual o valor do desconto na compra dos dois litros de leite?

- (A) R\$ 0,15
- (B) R\$ 0,20
- (C) R\$ 0,30
- (D) R\$ 0,45
- (E) R\$ 0,60

25

A razão entre as idades de Joana e de Sergio é igual a $\frac{7}{8}$. Sergio, que é mais velho que Joana, tem 56 anos.

Qual é a idade de Joana?

- (A) 36
- (B) 45
- (C) 49
- (D) 54
- (E) 64

26

As sociedades empresárias utilizam livros comerciais, fiscais e societários determinados pela legislação correspondente nos seus respectivos campos de atuação.

Uma sociedade empresária de grande porte faz o registro contábil dos fatos administrativos, por lançamento, em ordem cronológica rigorosa, no livro

- (A) Caixa
- (B) Diário
- (C) Razão
- (D) Registro de Duplicatas
- (E) Registro de inventários

27

Observe o conceito a seguir.

Técnica contábil que consiste em registrar, nos livros próprios, todos os acontecimentos que ocorrem na empresa e que modifiquem ou possam vir a modificar a situação patrimonial.

Tal conceito define a técnica contábil da(o)

- (A) Auditoria
- (B) Escrituração
- (C) Lançamento
- (D) Razonete
- (E) Sistema contábil

28

Observe a afirmativa a seguir.

A cada débito corresponde um crédito ou créditos de igual valor.

Tal afirmativa constitui o fundamento básico do(a)

- (A) Balancete
- (B) Lançamento
- (C) Método das partidas dobradas
- (D) Método das partidas simples
- (E) Teoria Materialista

29

Um lançamento pode ser elaborado adotando-se uma das quatro fórmulas convencionais nos termos da doutrina dominante vigente.

Nesse contexto, um lançamento de quarta fórmula implica a utilização de

- (A) mesmo número de contas a débito e a crédito
- (B) mais contas a débito que a crédito.
- (C) mais de uma conta a débito e mais de uma conta a crédito
- (D) quatro contas a débito e uma a crédito
- (E) uma conta a débito e mais de uma a crédito

30

Estão obrigadas a adotar o regime de competência, nos registros e respectivas demonstrações contábeis nos termos da legislação brasileira vigente, as

- (A) sociedades anônimas de capital aberto, somente.
- (B) sociedades anônimas de capital fechado, somente.
- (C) sociedades anônimas e todas as sociedades limitadas, somente.
- (D) sociedades anônimas e todos os outros demais tipos de sociedade.
- (E) sociedades anônimas e as sociedades limitadas de grande porte.

Utilize o enunciado a seguir para responder às questões de nºs 31, 32, 33 e 34.

Em 31/dezembro/2011, antes da elaboração do Balanço Patrimonial, uma empresa apresentou o seguinte balancete de verificação:

Contas	Saldo devedor	Saldo Credor
Caixa	15.000,00	
Capital a Realizar	25.000,00	
Capital Subscrito		125.000,00
Depreciação Acumulada		30.000,00
Empréstimo (2 anos)		50.000,00
Fornecedores		60.000,00
Marcas e Patentes	25.000,00	
Móveis e utensílios	50.000,00	
Prejuízo Acumulado	10.000,00	
Veículos para Revenda	140.000,00	
Totais	265.000,00	265.000,00

31

Considerando exclusivamente as informações apresentadas pela empresa no Balancete de Verificação, o valor do capital total à disposição da empresa, evidenciado no respectivo Balanço Patrimonial, elaborado em 31/Dezembro/2011, em reais, é

- (A) 90.000,00
- (B) 100.000,00
- (C) 125.000,00
- (D) 200.000,00
- (E) 265.000,00

32

No Balanço patrimonial, elaborado exclusivamente com as informações contidas no enunciado, o total do Imobilizado, no aludido Balanço, em reais, é

- (A) 20.000,00
- (B) 45.000,00
- (C) 75.000,00
- (D) 160.000,00
- (E) 185.000,00

33

Considerando exclusivamente os dados do enunciado, no balanço da empresa, elaborado em 31 de dezembro de 2011, o total do capital próprio, em reais, é

- (A) 60.000,00
- (B) 90.000,00
- (C) 100.000,00
- (D) 110.000,00
- (E) 125.000,00

34

Com base exclusivamente nos dados do enunciado, no Balanço Patrimonial da companhia, levantado em 31 de dezembro de 2011, o total do capital de terceiros, em reais, é

- (A) 50.000,00
- (B) 60.000,00
- (C) 90.000,00
- (D) 100.000,00
- (E) 110.000,00

35

Nos termos da legislação societária em vigor, alguns ativos são avaliados pelo valor justo.

O valor justo determinado pelo preço através do qual possam ser repostos mediante compra no mercado aplica-se aos

- (A) investimentos
- (B) bens em almoxarifado
- (C) instrumentos financeiros
- (D) bens destinados à venda
- (E) direitos destinados à venda

36

Nos termos da lei societária vigente, as Reservas podem ser de Capital e de Lucros.

A reserva de lucros constituída com a finalidade de compensar, em exercício futuro, a diminuição do lucro decorrente de perda julgada provável, cujo valor possa ser estimado, é a Reserva

- (A) de Incentivos Fiscais
- (B) de Lucros a Realizar
- (C) Estatutária
- (D) para Contingências
- (E) para Retenção de Lucros

37

A sociedade anônima ABC, de médio porte, contratou um profissional para calcular o valor dos dividendos obrigatórios devidos pela companhia a seus acionistas, no encerramento do exercício social em curso, apresentando-lhe as seguintes informações para tal

• Lucro Líquido do Exercício em curso	500.000,00.
• Constituição de Reservas já aprovadas para o exercício em curso	
Reserva estatutária	75.000,00;
Reserva para Contingências	100.000,00.
• Outras	

A reserva Legal foi incorporada ao capital no início deste exercício social em curso.

O estatuto da companhia estabeleceu que os dividendos obrigatórios deveriam ser pagos pelo percentual mínimo determinado pela legislação social vigente, mas não estabeleceu qualquer percentual a ser aplicado sobre o lucro da companhia.

Nesse contexto, e considerando exclusivamente as informações apresentadas pela companhia ABC, o valor dos dividendos obrigatórios, em reais, é

- (A) 100.000,00
- (B) 125.000,00
- (C) 187.500,00
- (D) 200.000,00
- (E) 250.000,00

38

O registro contábil dos dividendos obrigatórios a que os acionistas têm direito no final do exercício, realizado por uma sociedade anônima, de forma isolada só para os dividendos, desconsiderando data, histórico e valor, é

- (A) Despesa de Dividendos (Resultado do Exercício)
 - a Dividendos Propostos
- (B) Dividendos a Pagar
 - a Dividendos Propostos
- (C) Resultado do Exercício
 - a Dividendos a Pagar
- (D) Lucros Acumulados
 - a Dividendos a Pagar
- (E) Resultado do Exercício
 - a Dividendos (Patrimônio Líquido)

39

No dia 2 de agosto de 2012, a sociedade anônima prestou um serviço a terceiros recebendo 3 cheques do cliente no valor de 2.500,00 cada um, comprometendo-se a apresentar cada um dos referidos cheques em 2 de setembro, 2 de outubro e 2 de novembro de 2012.

No dia 2 de setembro, conforme o combinado com o cliente, a companhia depositou o cheque datado para esse mesmo dia.

Desconsiderando qualquer outro aspecto conceitual, e considerando exclusivamente as informações apresentadas na questão, o registro contábil de tal operação é feito como segue:

(A) Débito: Banco conta Movimento	2.500,00	
Crédito: Cheques a Receber		2.500,00
(B) Débito: Cheques a Receber	2.500,00	
Crédito: Serviços Prestados a Terceiros (Receita)		2.500,00
(C) Débito: Caixa	2.500,00	
Crédito: Bancos conta Movimento		2.500,00
(D) Débito: Cheques em Cobrança	2.500,00	
Crédito: Cheques a Receber		2.500,00
(E) Débito: Clientes	2.500,00	
Crédito: Bancos conta Movimento		2.500,00

40

Tanto nas empresas comerciais quanto nas empresas industriais podem ser adotados métodos diferentes para fazer a avaliação dos estoques.

Uma empresa comercial que atualiza o custo unitário de suas mercadorias em estoque a cada compra efetuada adota o método de avaliação de estoque denominado

- (A) PEPS
- (B) UEPS
- (C) Preço Específico
- (D) Média Ponderada Fixa
- (E) Média Ponderada Móvel

41

Numa operação com mercadorias, a Comercial L, que controla seu estoque de mercadorias pelo inventário permanente, aceitou uma duplicata no valor de R\$ 100.000,00 com vencimento para 8 de dezembro de 2012.

Em 8 de novembro de 2012, a duplicata foi quitada, em dinheiro, com um desconto de 10.000,00, sendo a operação contabilizada, adequadamente, na Comercial L como segue:

(A) Débito: Caixa	90.000,00	
Crédito: Clientes (Duplicatas a Receber)		90.000,00
(B) Débito: Fornecedores (Duplicatas a Pagar)	100.000,00	
Crédito: Descontos Comerciais Obtidos		10.000,00
Crédito: Caixa		90.000,00
(C) Débito: Fornecedores (Duplicatas a Pagar)	100.000,00	
Crédito: Descontos Financeiros Obtidos		10.000,00
Crédito: Caixa		90.000,00
(D) Débito: Descontos Comerciais Concedidos	10.000,00	
Débito: Caixa	90.000,00	
Crédito: Clientes (Duplicatas a Receber)		100.000,00
(E) Débito: Descontos Financeiros Concedidos	10.000,00	
Débito: Caixa	90.000,00	
Crédito: Clientes (Duplicatas a Receber)		100.000,00

42

A comercial OPS comprou cadeiras para revenda por 55.000,00, quitando a compra por 50.000,00, no ato, em decorrência do desconto incondicional concedido pelo fornecedor, destacado na Nota Fiscal.

Nesse contexto, considerando as informações recebidas e que a comercial OPS evidencia este tipo de desconto em conta própria, o registro contábil desta operação, num registro único, deve ser por ela realizado da seguinte forma:

(A) Débito: Compras (Estoque) de Mercadorias	50.000,00	
Crédito: Fornecedores		50.000,00
(B) Débito: Cadeiras (Ativo Imobilizado)	50.000,00	
Crédito: Caixa		50.000,00
(C) Débito: Cadeiras (Ativo Imobilizado)	55.000,00	
Crédito: Caixa		50.000,00
Crédito: Descontos Incondicionais Obtidos		5.000,00
(D) Débito: Compras (Estoque) de Mercadorias	55.000,00	
Crédito: Descontos Incondicionais Obtidos		5.000,00
Crédito: Caixa		50.000,00
(E) Débito: Compras (Estoque) de Mercadorias	50.000,00	
Débito: Descontos Incondicionais Obtidos	5.000,00	
Crédito: Fornecedores		55.000,00

43

Uma companhia comercial, que é contribuinte do ICMS, mas não é do IPI, apresentou as seguintes informações sobre as transações com mercadorias por ela realizadas:

- 30/setembro/2012: estoque final de mercadorias R\$ 0,00 (zero).
- Outubro/2012: venda de mercadorias, valor líquido R\$ 160.000,00.
- Outubro/2012: compra de mercadorias, realizada em empresa industrial.

Mercadorias	R\$ 100.000,00	
IPI	R\$ 10.000,00	R\$ 110.000,00
ICMS destacado na Nota Fiscal R\$ 18.000,00		
- Outubro/2012: compra de mercadorias, realizada em empresa comercial.

Mercadorias	R\$ 50.000,00
ICMS destacado na Nota Fiscal R\$ 9.000,00	
- 31/outubro/2012, na sua contagem física realizada o estoque foi avaliado em R\$ 30.000,00.

O custo com mercadorias vendidas (CMV), em reais, apurado pela companhia no mês de outubro/2012, considerando exclusivamente as informações recebidas, é:

- (A) 83.000,00 (B) 93.000,00 (C) 103.000,00 (D) 113.000,00 (E) 123.000,00

44

Uma empresa comercial, que controla seus estoques de mercadorias pelo método do inventário permanente e adota a conta desdobrada de mercadorias, realizou o seguinte lançamento sem os elementos histórico e valor.

Rio de Janeiro, 5 de novembro de 2012
CMV
a Estoque de Mercadorias

Considerando exclusivamente as informações recebidas, o lançamento realizado indica que a empresa comercial contabilizou a

- (A) baixa do estoque, pela venda de mercadorias.
 (B) compra de mercadorias.
 (C) venda de mercadorias.
 (D) redução do estoque ao valor provável de realização.
 (E) entrada de mercadorias no estoque pela devolução de vendas.

Utilize o enunciado a seguir para responder às questões de nºs 45 e 46.

A sociedade industrial U, de grande porte, apresentou ao final de um mês de produção, o consumo no período produtivo dos seguintes elementos:

Matéria-prima	100.000,00
Mão de obra direta	45.000,00
Mão de obra indireta	10.000,00
Depreciação do parque fabril	25.000,00
Depreciação das lojas de vendas	15.000,00

Outras informações relativas ao mesmo período produtivo

Estoques:	Inicial	Final
Produtos em Elaboração	40.000,00	60.000,00
Produtos Acabados	30.000,00	20.000,00

45

Com base exclusivamente nas informações recebidas, o registro contábil a ser feito pela sociedade industrial U, em lançamento único, do custo da Produção do Período, é

(A) Custo de Produtos em Elaboração	195.000,00	
a Custo de Produção do Período		195.000,00
(B) Custo de Produtos Acabados	180.000,00	
a Custo de Produção do Período		180.000,00
(C) Custo de Produção do Período	235.000,00	
a Diversos		
a Matéria-Prima Consumida		100.000,00
a Mão de Obra Direta		45.000,00
a Mão de Obra Indireta		10.000,00
a Depreciação Parque Fabril		25.000,00
a Depreciação das lojas de vendas		15.000,00
a Estoque Inicial de Produtos em Elaboração		40.000,00
(D) Custo de Produção do Período	180.000,00	
a Diversos		
a Matéria-Prima Consumida		100.000,00
a Mão de Obra Direta		45.000,00
a Mão de Obra Indireta		10.000,00
a Depreciação Parque Fabril		25.000,00
(E) Custo de Produção do Período	195.000,00	
a Diversos		
a Matéria-Prima Consumida		100.000,00
a Mão de Obra Direta		45.000,00
a Mão de Obra Indireta		10.000,00
a Depreciação Parque Fabril		25.000,00
a Depreciação das lojas de vendas		15.000,00

46

Considerando exclusivamente as informações recebidas no enunciado, o registro contábil do Custo dos Produtos Vendidos deve ser feito pela sociedade industrial U da seguinte forma:

(A) Custo dos Produtos Vendidos	255.000,00	
a Diversos		
a Estoque de Produtos em Elaboração		60.000,00
a Custo de Produção do Período		195.000,00
e		
Estoque de Produtos em Elaboração	40.000,00	
a Custo dos Produtos Vendidos		40.000,00
(B) Custo dos Produtos Vendidos	220.000,00	
a Diversos		
a Estoque de Produtos em Elaboração		40.000,00
a Custo de Produção do Período		180.000,00
e		
Estoque de Produtos em Elaboração	60.000,00	
a Custo dos Produtos Vendidos		60.000,00
(C) Custo dos Produtos Vendidos	190.000,00	
a Diversos		
a Estoque de Produtos Acabados		30.000,00
a Custo da Produção Acabada no período		160.000,00
e		
Estoque de Produtos Acabados	20.000,00	
a Custo dos Produtos Vendidos		20.000,00
(D) Custo dos Produtos Vendidos	195.000,00	
a Diversos		
a Estoque de Produtos Acabados		20.000,00
a Custo de Produção Acabada		175.000,00
e		
Estoque de Produtos Acabados	30.000,00	
a Custo dos Produtos Vendidos		30.000,00
(E) Custo dos Produtos Vendidos	180.000,00	
a Diversos		
a Estoque de Produtos Acabados		20.000,00
a Custo de Produção Acabada		160.000,00
e		
Estoque de Produtos Acabados	30.000,00	
a Custo dos Produtos Vendidos		30.000,00

47

A sociedade comercial, não equiparada a empresa industrial, contribuinte somente do ICMS, está obrigada ao uso dos livros determinados pela legislação do ICMS.

Dentre os livros estabelecidos para os contribuintes sujeitos exclusivamente à legislação do ICMS, pelo SINIEF s/nº de 15/dezembro/1970, está o livro de Registro de

- (A) Entradas – modelo 1
- (B) Saídas – modelo 2-A
- (C) Selo Especial de Controle – modelo 4
- (D) Controle da Produção e do Estoque – modelo 3
- (E) Utilização de Documentos Fiscais e Termos de Ocorrências – modelo 6

48

A empresa Industrial YP, de grande porte, na venda a prazo do produto AY para outra empresa industrial localizada fora do Estado, informou o seguinte:

Valor do produto vendido	300.000,00
IPI incidente na venda (10%)	30.000,00
ICMS incidente na venda (12%)	36.000,00

Considerando exclusivamente as informações recebidas e a boa técnica contábil, a industrial YP contabilizou esta venda como segue:

(A) Duplicatas a Receber	270.000,00	
a Venda de produtos / Produto AY		270.000,00
(B) Duplicatas a Receber	300.000,00	
a Venda de produtos / Produto AY		300.000,00
(C) Diversos		
a Venda de Produtos / Produto AY		330.000,00
Duplicatas a Receber	300.000,00	
IPI a Recuperar	30.000,00	
(D) Diversos		
a Diversos		
Duplicatas a Receber	300.000,00	
ICMS a Recuperar	36.000,00	
a Venda de Produtos / Produto AY		306.000,00
a IPI a Recolher		30.000,00
(E) Duplicatas a Receber	330.000,00	
a Diversos		
a Venda de Produtos / Produto AY		300.000,00
a IPI a Recolher		30.000,00

49

De acordo com a nomenclatura de custos, existem diferentes conceitos de custos fundamentados em diversos aspectos técnicos, tais como: identificação com o produto, quantidade produzida, forma de alocação.

Nesse contexto, entende-se por custo fixo aquele que

- (A) altera o valor unitário, em função da produção.
- (B) mantém o valor total, mas só na redução de produção no período.
- (C) nunca modifica o valor de seus elementos de um período para o outro.
- (D) pode ser plenamente identificado com o produto.
- (E) reduz o valor por unidade na venda de cada uma delas.

50

Ao final do período produtivo, a indústria AZ apresentou as seguintes informações referentes à produção e venda de um de seus produtos:

Produção do período (em quantidade de unidades)	15.000
Volume de vendas (em quantidade de unidades)	10.000
Matéria-prima consumida (em reais)	210.000,00
Mão de obra direta consumida (em reais)	60.000,00
Aluguel das unidades fabris (em reais)	30.000,00
Comissão paga aos vendedores (em reais)	15.000,00
Preço de venda unitário (em reais)	33,00

Considerando exclusivamente as informações recebidas, e sabendo que a indústria AZ adotou o método de custeio por absorção, o seu Lucro Líquido com este produto, em reais, é

- (A) 105.000,00
- (B) 110.000,00
- (C) 115.000,00
- (D) 120.000,00
- (E) 130.000,00

