

TÉCNICO(A) DE CONTABILIDADE JÚNIOR

LEIA ATENTAMENTE AS INSTRUÇÕES ABAIXO.

01 - Você recebeu do fiscal o seguinte material:

a) este caderno, com o enunciado das 50 (cinquenta) questões objetivas, sem repetição ou falha, com a seguinte distribuição:

Conhecimentos Básicos						Conhecimentos Específicos	
Língua Portuguesa I		Matemática		Informática I		Questões	Pontuação
Questões	Pontuação	Questões	Pontuação	Questões	Pontuação		
1 a 10	1,0 cada	11 a 15	1,0 cada	16 a 20	1,0 cada	21 a 50	1,0 cada

b) **CARTÃO-RESPOSTA** destinado às respostas das questões objetivas formuladas nas provas.

02 - Verifique se este material está em ordem e se o seu nome e número de inscrição conferem com os que aparecem no **CARTÃO-RESPOSTA**. Caso contrário, notifique o fato **IMEDIATAMENTE** ao fiscal.

03 - Após a conferência, o candidato deverá assinar, no espaço próprio do **CARTÃO-RESPOSTA**, a caneta esferográfica transparente de tinta na cor preta.

04 - No **CARTÃO-RESPOSTA**, a marcação das letras correspondentes às respostas certas deve ser feita cobrindo a letra e preenchendo todo o espaço compreendido pelos círculos, a **caneta esferográfica transparente de tinta na cor preta**, de forma contínua e densa. A LEITORA ÓTICA é sensível a marcas escuras, portanto, preencha os campos de marcação completamente, sem deixar claros.

Exemplo: (A) ● (C) (D) (E)

05 - Tenha muito cuidado com o **CARTÃO-RESPOSTA**, para não o **DOBRAR, AMASSAR ou MANCHAR**. O **CARTÃO-RESPOSTA SOMENTE** poderá ser substituído se, no ato da entrega ao candidato, já estiver danificado em suas margens superior e/ou inferior - **BARRA DE RECONHECIMENTO PARA LEITURA ÓTICA**.

06 - Para cada uma das questões objetivas, são apresentadas 5 alternativas classificadas com as letras (A), (B), (C), (D) e (E); só uma responde adequadamente ao quesito proposto. Você só deve assinalar **UMA RESPOSTA**: a marcação em mais de uma alternativa anula a questão, **MESMO QUE UMA DAS RESPOSTAS ESTEJA CORRETA**.

07 - As questões objetivas são identificadas pelo número que se situa acima de seu enunciado.

08 - **SERÁ ELIMINADO** do Processo Seletivo Público o candidato que:

a) se utilizar, durante a realização das provas, de máquinas e/ou relógios de calcular, bem como de rádios gravadores, *headphones*, telefones celulares ou fontes de consulta de qualquer espécie;

b) se ausentar da sala em que se realizam as provas levando consigo o **CADERNO DE QUESTÕES** e/ou o **CARTÃO-RESPOSTA**.

Obs. O candidato só poderá se ausentar do recinto das provas após **1 (uma) hora** contada a partir do efetivo início das mesmas. Por motivos de segurança, o candidato **NÃO PODERÁ LEVAR O CADERNO DE QUESTÕES**, a qualquer momento.

09 - Reserve os 30 (trinta) minutos finais para marcar seu **CARTÃO-RESPOSTA**. Os rascunhos e as marcações assinaladas no **CADERNO DE QUESTÕES NÃO SERÃO LEVADOS EM CONTA**.

10 - Quando terminar, entregue ao fiscal o **CADERNO DE QUESTÕES**, o **CARTÃO-RESPOSTA** e **ASSINE** a **LISTA DE PRESENÇA**.

11 - **O TEMPO DISPONÍVEL PARA ESTAS PROVAS DE QUESTÕES OBJETIVAS É DE 3 (TRÊS) HORAS**, incluído o tempo para a marcação do seu **CARTÃO-RESPOSTA**.

12 - As questões e os gabaritos das Provas Objetivas serão divulgados no primeiro dia útil após a realização das mesmas, no endereço eletrônico da **FUNDAÇÃO CESGRANRIO** (<http://www.cesgranrio.org.br>).

LÍNGUA PORTUGUESA I

Setor de Informações

I

O rapazinho que seguia à minha frente na Visconde de Pirajá abordou um velho que vinha em sentido contrário:

5 – O senhor pode me informar onde é a Rua Gomes Carneiro?

O velho ficou calado um instante, compenetrado:

– Você vai seguindo por aqui – falou afinal, apontando com o braço: – Ali adiante, depois de passar a praça, dobra à direita. Segue mais dois quarteirões.

10 Chegando na Lagoa...

Não resisti e me meti no meio:

– Me desculpe, mas Gomes Carneiro é logo ali. Mostrei a esquina, na direção oposta.

15 – Ah, é aquela ali? – o velho não se abalou: – Pois eu estava certo de que era lá para os lados da Lagoa.

E foi-se embora, muito digno. O rapazinho me agradeceu e foi-se embora também, depois de resmungar:

20 – Se não sabe informar, por que informa?

Realmente, não há explicação para esta estranha compulsão que a gente sente de dar informação, mesmo que não saiba informar.

II

25 Pois ali estava eu agora na esquina das Ruas Bulhões de Carvalho e Gomes Carneiro (a tal que o rapazinho procurava), quando fui abordado pelo motorista de um carro à espera do sinal.

– Moço, o senhor pode me mostrar onde fica a casa do sogro do doutor Adolfo?

30 Seu pedido de informação era tão surpreendente que não resisti e perguntei, para ganhar tempo:

– A casa do sogro do doutor Adolfo?

Ele deixou escapar um suspiro de cansaço:

35 – O doutor Adolfo me mandou trazer o Dodge dele de Pedro Leopoldo até a casa do sogro, aqui no Rio de Janeiro. O carro está velho, penei como o diabo para trazer até aqui. Perdi o endereço, só sei que é em Copacabana.

40 O Dodge do doutor Adolfo. O doutor Adolfo de Pedro Leopoldo. Aquilo me soava um tanto familiar:

– Como é o nome do sogro do doutor Adolfo?

Ele coçou a cabeça, encafifado:

45 – O senhor sabe que não me lembro? Um nome esquisito...

Esse doutor Adolfo de Pedro Leopoldo mora hoje em Belo Horizonte?

– Mora sim senhor.

– Tem um irmão chamado Oswaldo?

– Tem sim senhor.

50 – Por acaso o nome dele é Adolfo Gusmão?
– Isso mesmo. O senhor sabe onde é que é a casa do sogro dele?

Respirei fundo, mal podendo acreditar:

55 – Sei. O sogro dele mora na Rua Souza Lima. É aqui pertinho. Você entra por ali, vira aquela esquina, torna a virar a primeira à esquerda...

60 Ele agradeceu com a maior naturalidade, como se achasse perfeitamente normal que a primeira pessoa abordada numa cidade de alguns milhões de habitantes soubesse onde mora o sogro do doutor Adolfo, de Pedro Leopoldo. Antes que se fosse, não sei como não me ajoelhei, tomei-lhe a bênção e pedi que me informasse o caminho da morada de Deus.

SABINO, Fernando. **A volta por cima**. Rio de Janeiro: Record, 1990. p. 34-39. Adaptado.

1

A frase em que o sentido do termo entre parênteses corresponde ao da palavra negritada é:

- (A) “O rapazinho que seguia à minha frente na Rua Visconde de Pirajá **abordou** um velho” (l. 2) – (assustou)
(B) “O velho ficou calado um instante, **compenetrado**.” (l. 6) – (convencido)
(C) “Realmente, não há explicação para esta estranha **compulsão**” (l. 21-22) (impulsão)
(D) “Seu pedido de informação era tão **surpreendente**” (l. 30-31) (inesperado)
(E) “Ele coçou a cabeça **encafifado**” (l. 42) (interessado)

2

Ao usar a palavra **digno**, na frase “E foi-se embora, muito **digno**.” (l. 17), o narrador

- (A) ironiza o descompromisso do velho em dar a informação errada.
(B) elogia a extrema paciência do velho em escutar a explicação dele.
(C) ressalta a modéstia do velho ao reconhecer que estava, de fato, errado.
(D) critica a falta de educação do velho ao atender a uma pessoa desconhecida.
(E) valoriza o caráter conciliador do velho, que não se exalta ao defender sua opinião.

3

Entre as linhas 18 e 19 do texto, afirma-se que o rapazinho resmungou.

Isso aconteceu porque

- (A) estava mal-humorado.
(B) esta era a sua forma de agradecer.
(C) não recebeu a informação que queria.
(D) a rua que ele procurava ficava na direção oposta.
(E) o velho lhe dera a informação, mesmo sem saber informar.

4

Observe o emprego da palavra **mal** no período abaixo.
“Respirei fundo, mal podendo acreditar.” (l. 53)

Essa palavra é empregada com o mesmo sentido em:

- (A) O cantor toca piano muito mal.
- (B) A inveja é um mal que deve ser evitado.
- (C) O menino não quebrou a vidraça por mal.
- (D) Qual é o mal que acomete aquele doente?
- (E) O perdedor mal conseguiu esconder sua decepção.

5

No último parágrafo, fica claro que o motorista logo encontrou, dentre milhões de habitantes de uma cidade, uma pessoa que sabia a resposta exata à sua dúvida.

Assim, no último período, a reflexão do narrador indica que este

- (A) se considerava bastante religioso.
- (B) queria pedir uma informação divina.
- (C) achava o motorista um homem de muita sorte.
- (D) gostaria de conversar mais com o motorista.
- (E) estava com pressa e precisava ir-se embora.

6

A análise da abordagem temática das passagens I e II do texto permite concluir que ambas

- (A) relatam fatos acontecidos na rua.
- (B) recriminam a irresponsabilidade de algumas pessoas.
- (C) denunciam a falta de sinalização na cidade.
- (D) registram cenas típicas de cidades do interior.
- (E) revelam a irritação do narrador com pessoas desnor-teadas.

7

A análise do texto leva a concluir que são características pessoais do narrador o fato de ele ser

- (A) natural de Minas Gerais, desconfiado e religioso
- (B) solidário, observador e bem-humorado
- (C) natural de Minas Gerais, preconceituoso e bem-hu-morado
- (D) bem situado, intrometido e crente
- (E) observador, inconveniente e crédulo

8

A substituição da vírgula por ponto pode ser feita, mantendo dois períodos bem-formados sintaticamente, em:

- (A) Ela nasceu em Salvador, capital do estado da Bahia.
- (B) O rapaz andava com passos rápidos, estava com pressa.
- (C) Pedi informação a um senhor, que parecia saber o caminho.
- (D) Se você não souber o caminho, procure a informação no mapa.
- (E) Todas as ruas, avenidas e praças de Copacabana estão sinalizadas.

9

O acento grave indicativo de crase está empregado de acordo com a norma-padrão em:

- (A) O velho deu à informação errada.
- (B) O rapaz disse à todos que sabia o endereço.
- (C) O senhor trouxe o carro à Copacabana.
- (D) O açougue fica à direita da farmácia.
- (E) O motorista seguiu à sinalização das ruas.

10

Em que frase o segundo verbo está empregado de acordo com a norma-padrão?

- (A) Você quer que eu chego mais cedo?
- (B) Você quer que eu revejo o documento?
- (C) Você quer que eu venha imediatamente?
- (D) Você quer que eu esteja lá amanhã?
- (E) Você quer que eu faço o relatório?

MATEMÁTICA

11

Durante os meses de agosto e setembro de 2011, o dólar apresentou grande valorização frente ao real. Suponha que, em 24 de agosto, o valor de um dólar fosse R\$ 1,60 e, em 23 de setembro, R\$ 1,84.

Se o aumento diário, de 24 de agosto a 23 de setembro, tivesse ocorrido linearmente, formando uma progressão aritmética, qual seria, em reais, o valor do dólar em 8 de setembro?

- (A) 1,70
- (B) 1,71
- (C) 1,72
- (D) 1,73
- (E) 1,74

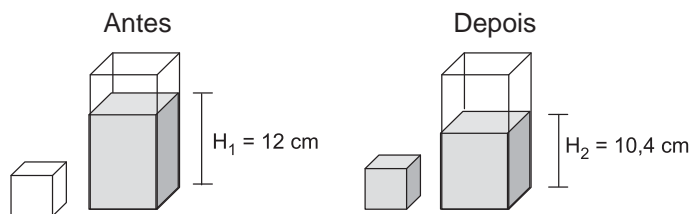
12

Maria comprou 30 balas e 18 chocolates para distribuir entre seus três filhos, mas não os distribuiu igualmente. O filho mais velho recebeu igual número de balas e chocolates, enquanto que o filho do meio ganhou 5 balas a mais do que chocolates. O número de balas que o filho caçula ganhou correspondeu ao dobro do número de chocolates. Sabendo-se que os dois filhos mais novos de Maria ganharam a mesma quantidade de chocolates, quantas balas couberam ao filho mais velho?

- (A) 4
- (B) 7
- (C) 8
- (D) 11
- (E) 12

13

Um recipiente com formato de paralelepípedo reto retângulo, cujas arestas da base medem 5 cm e 8 cm, está parcialmente cheio de água. Despeja-se parte dessa água em um outro recipiente, cúbico e inicialmente vazio, de modo a enchê-lo completamente, como mostra o esquema a seguir.



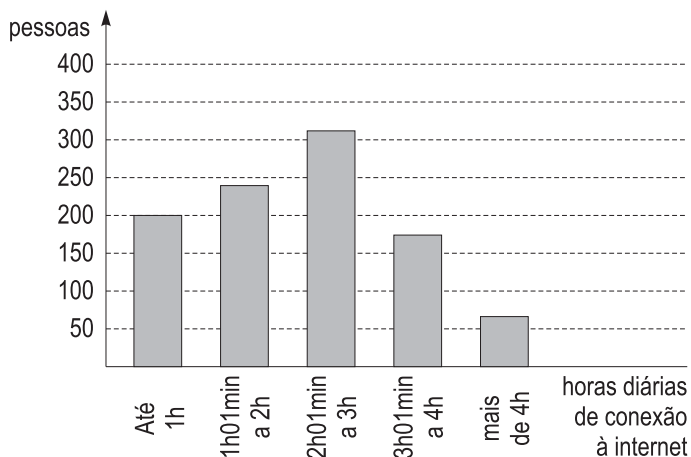
Considerando-se os níveis H_1 e H_2 especificados na figura e que não houve qualquer desperdício de água, a medida da aresta do cubo, em cm, é

- (A) 2
- (B) 4
- (C) 6
- (D) 8
- (E) 9

14

Em uma pesquisa sobre tempo de uso de internet, 1.000 pessoas responderam à seguinte pergunta: "Durante quantas horas, por dia, você utiliza a internet?"

O resultado da pesquisa é mostrado no gráfico a seguir.



Escolhendo-se ao acaso uma das pessoas entrevistadas, a probabilidade de que ela utilize a internet durante mais de 3 horas por dia será de, aproximadamente,

- (A) 6%
- (B) 18%
- (C) 24%
- (D) 42%
- (E) 60%

15




Figura 1

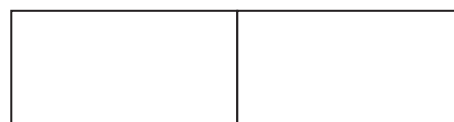


Figura 2

Pensando em reunir os amigos em torno de uma única mesa, João juntou duas mesas retangulares e iguais formando uma única mesa, quadrada, de área 14.400 cm^2 , como mostra a Figura 1.

José analisou a arrumação de João e concluiu que, se ele juntasse as duas mesas pelo menor lado (Figura 2), haveria espaço para mais pessoas, pois o perímetro dessa nova mesa seria maior.

A diferença, em metros, entre os perímetros da "mesa de José" e da "mesa de João", em centímetros, é

- (A) 36
- (B) 60
- (C) 72
- (D) 108
- (E) 120

RASCUNHO

INFORMÁTICA I

Considere a suíte Microsoft Office 2003 para responder às questões de nºs 16 a 18.

16

No aplicativo Word, o modo de exibição de layout de impressão é útil para

- (A) alterar configurações de arquivos em editores de textos de outras suítes.
- (B) criar planilhas de cálculos, tabelas dinâmicas e formatar macros de impressão.
- (C) editar cabeçalhos e rodapés, ajustar margens e trabalhar com colunas e objetos de desenho.
- (D) formatar, criar e exibir slides de apresentações em palestras e reuniões de trabalho.
- (E) programar páginas Web para apresentar imagens e textos em Flash Player.

17

Observe a figura de uma planilha do Microsoft Excel a seguir.

	A	B	C	D	E	F	G	H	I	J
1	150	20								
2	280	10								
3	400									
4	400									
5	400									
6	400									
7	0									
8										
9										
10										

Às células A3, A4, A5, A6 e A7 foram inseridas fórmulas que apresentaram valores, conforme mostrado na figura.

Uma fórmula que pode ter sido inserida na célula A7 é

- (A) $= (A1+A2)-(B1+B2)$
- (B) $= (A2-A1)+(A2+B1)-(B1+B2)$
- (C) $= \text{MÉDIA}((A1+A1)+(A2-B1-B2)-(A2+B1))+A1$
- (D) $= \text{MÉDIA}((A1+B1)-(A2+B2))+(A1-B1-B2)$
- (E) $= \text{SOMA}(A1;A2)-30$

18

No aplicativo PowerPoint, o comando Substituir fonte... encontra-se, por padrão, no menu

- (A) Inserir
- (B) Formatar
- (C) Editar
- (D) Arquivo
- (E) Apresentações

19

Quando um navegador é iniciado normalmente, considerando-se normal o estado da conexão à internet, ele irá apresentar, por padrão, a

- (A) home page configurada para o navegador
- (B) menor página acessada anteriormente pelo navegador
- (C) maior página acessada anteriormente pelo navegador
- (D) página mais acessada em navegações anteriores
- (E) página de mais rápido acesso

20

Para prevenir-se contra ataques por softwares maliciosos, um usuário pode utilizar, além de um antivírus, um firewall.

O firewall, no entanto, **NÃO**

- (A) ajuda a bloquear vírus e vermes.
- (B) bloqueia sites mal-intencionados que possam comprometer o funcionamento de um computador.
- (C) cria um registro de log de segurança.
- (D) filtra as informações que entram pela conexão da internet.
- (E) impede a abertura de e-mails com anexos perigosos. ...

CONHECIMENTOS ESPECÍFICOS**21**

O método de custeio que apropria os custos fixos aos produtos por meio de rateio é denominado

- (A) Absorção
- (B) Apropriação
- (C) Variável
- (D) Ponderado
- (E) Discricionário

22

Ao realizar a compra de um caminhão no valor de R\$ 104.000,00, uma empresa pagou em cheque, no ato da emissão da nota fiscal, o valor de R\$ 52.000,00 e negociou o restante do pagamento para 30 dias.

Qual a fórmula de lançamento contábil que deverá ser utilizada?

- (A) 1ª
- (B) 2ª
- (C) 3ª
- (D) 4ª
- (E) 5ª

23

Ao adquirir a prazo, no mês de dezembro de 2010 um determinado produto para revenda no valor de R\$ 860.000,00, com pagamento em quatro parcelas de R\$ 215.000,00, uma empresa reconheceu 100% do gasto no mês de dezembro/2010.

Qual o regime adotado por essa empresa no reconhecimento desse gasto?

- (A) Caixa
- (B) Total
- (C) Competência
- (D) Parcial
- (E) Imediato

24

A citação a seguir refere-se a um tipo de diminuição de valor dos elementos do ativo.

“[...] quando corresponder à perda do valor dos direitos que têm por objeto bens físicos sujeitos a desgastes ou perda de utilidade por uso, ação da natureza ou obsolescência”. (art. 183 da Lei nº 11.941/09)

Essa citação refere-se, então, a

- (A) amortização
- (B) exaustão
- (C) compensação
- (D) substituição
- (E) depreciação

25

De acordo com a legislação contábil vigente no país, as principais Demonstrações Contábeis são:

- (A) Balancete de Verificação, Demonstração do Resultado do Exercício, Demonstração dos Lucros ou Prejuízos Acumulados, Demonstração do Fluxo de Caixa e Demonstração do Valor Adicionado.
- (B) Balancete de Verificação, Balanço Patrimonial, Demonstração do Resultado do Exercício, Demonstração dos Lucros ou Prejuízos Acumulados, Demonstração do Fluxo de Caixa e Livro Diário.
- (C) Balanço Patrimonial, Demonstração do Resultado do Exercício, Demonstração dos Lucros ou Prejuízos Acumulados, Demonstração do Fluxo de Caixa e Demonstração do Valor Adicionado.
- (D) Balanço Patrimonial, Demonstração do Resultado do Exercício, Livro Razão, Livro Diário, Demonstração do Fluxo de Caixa e Demonstração do Valor Adicionado.
- (E) Balanço Patrimonial, Demonstração do Resultado do Exercício, Livro Razão, Livro Caixa e Livro Diário.

26

O Patrimônio Líquido, também chamado de capital próprio ou situação líquida, divide-se, de acordo com a legislação contábil vigente, nas seguintes contas:

- (A) Capital social, Reservas de Capital, Ajustes de Avaliação Patrimonial, Reservas de Lucros, Ações em Tesouraria e Lucros Acumulados.
- (B) Capital social, Reservas de Capital, Ajustes de Avaliação Patrimonial, Reservas de Lucros, Ações em Tesouraria e Lucros/Prejuízos Acumulados.
- (C) Capital social, Reservas de Capital, Ajustes de Avaliação Patrimonial, Ações em Tesouraria e Prejuízos Acumulados.
- (D) Capital social, Reservas de Capital, Ajustes de Avaliação Patrimonial, Reservas de Lucros, Ações em Tesouraria e Prejuízos Acumulados.
- (E) Ajustes de Avaliação Patrimonial, Reservas de Lucros, Ações em Tesouraria e Prejuízos Acumulados.

27

De acordo com a legislação contábil vigente, o lucro do exercício tem que ter seu destino definido ainda dentro do próprio período do exercício.

Dessa forma, a conta Lucros Acumulados tornou-se uma conta

- (A) definitiva de ativo que deverá manter seu saldo do período
- (B) definitiva de passivo que deverá manter seu saldo do período
- (C) transitória utilizada para acumular o lucro obtido e que deverá manter seu saldo do período.
- (D) transitória utilizada para acumular o lucro obtido durante o exercício, mas que deverá ser zerada no encerramento do mesmo.
- (E) que não poderá existir como transitória nem como definitiva.

28

Em se tratando de critério de avaliação do ativo, qual é o critério adotado na avaliação dos direitos classificados no imobilizado?

- (A) Custo de aquisição, acrescido da respectiva correção monetária.
- (B) Custo de aquisição, deduzido do saldo da respectiva conta de depreciação, amortização ou exaustão
- (C) Custo de aquisição, deduzido de provisão para atender às perdas prováveis
- (D) Pelo valor justo
- (E) Pelo valor de emissão

29

Conforme a legislação contábil vigente, o Ativo Diferido deixou de existir.

Assim, contabilmente, as contas desse grupo com saldo em 31 de dezembro de 2008,

- (A) devem, obrigatoriamente, ser amortizadas, totalmente, até 31 de dezembro de 2009.
- (B) devem, obrigatoriamente, ser alocadas em outro grupo de contas.
- (C) devem, obrigatoriamente, ser extintas até o exercício seguinte.
- (D) podem ser mantidas no Ativo sob a mesma classificação até sua completa amortização, caso não seja possível transferi-las a outros grupos.
- (E) podem ser transferidas com seu saldo total para o Passivo, mantendo a mesma nomenclatura, caso não seja possível mantê-las no Ativo.

30

Ao adquirir mercadoria para revenda no valor de R\$ 36.000,00, com pagamento em 3 (três) parcelas iguais, sendo entrada, mais 30 e 60 dias a contar da data da compra, a empresa deverá proceder ao seguinte lançamento contábil:

- (A) debitar R\$ 36.000,00 na conta estoque, creditar R\$ 12.000,00 na conta caixa e creditar R\$ 24.000,00 na conta fornecedores.
- (B) debitar R\$ 36.000,00 na conta estoque e creditar R\$ 36.000,00 na conta fornecedores.
- (C) creditar R\$ 36.000,00 na conta estoque, debitar R\$ 12.000,00 na conta caixa e debitar R\$ 24.000,00 na conta fornecedores.
- (D) creditar R\$ 36.000,00 na conta estoque e debitar R\$ 36.000,00 na conta fornecedores.
- (E) debitar R\$ 36.000,00 na conta estoque, creditar R\$ 12.000,00 na conta caixa e creditar R\$ 24.000,00 na conta financiamento.

31

Tratando-se de método de avaliação de estoque, o critério de custo dos estoques valorados pela média dos custos de aquisição e atualizados a cada compra efetuada é denominado

- (A) Custo médio ponderado fixo
- (B) Custo médio ponderado móvel
- (C) Preço específico
- (D) PEPS
- (E) UEPS

32

Em uma empresa, o documento onde são efetuadas as adições, exclusões e compensações visando a ajustar o lucro contábil à real situação tributária, obedecendo às normas em vigor, para então chegar à base de cálculo do imposto de renda e da contribuição sobre o lucro líquido, é denominado

- (A) Balanço Patrimonial
- (B) Livro Razão
- (C) Livro Diário
- (D) Demonstração do Fluxo de Caixa
- (E) Livro de Apuração do Lucro Real

33

O montante do capital subscrito que já foi efetivamente aportado pelos sócios, seja em dinheiro ou em outros bens, é denominado

- (A) capital autorizado
- (B) capital subscrito
- (C) capital integralizado
- (D) reserva de capital
- (E) capital a integralizar

34

Quando a empresa Comercial Típica Ltda. efetua compras nas indústrias que são suas fornecedoras de produtos para revenda, com base no documento fiscal de compra, contabiliza como custo de mercadorias vendidas os valores das mercadorias,

- (A) excluindo o ICMS e o IPI, pois nenhum dos dois será recuperado.
- (B) excluindo o ICMS e incluindo o IPI, que será recuperado.
- (C) excluindo o ICMS, que será recuperado, e incluindo o IPI.
- (D) incluindo o ICMS, que não será recuperado, e excluindo o IPI.
- (E) incluindo tanto o ICMS quanto o IPI, pois ambos serão recuperados.

35

O valor da diferença entre o total das vendas efetuadas num determinado período e o valor do custo das mercadorias vendidas nesse mesmo período recebe o nome de

- (A) Lucro Líquido do Exercício
- (B) Receita Operacional Bruta
- (C) Receita Operacional Líquida
- (D) Resultado Operacional Bruto
- (E) Resultado Operacional Líquido

36

Um técnico em contabilidade da EBL Comércio de Papéis Ltda. terá de informar ao seu chefe o valor das Receitas Operacionais Líquidas do período.

Assim, ele tomará o valor correspondente às vendas totais, deduzidas dos seguintes itens:

- (A) impostos incidentes sobre vendas e descontos incondicionais
- (B) custo das mercadorias vendidas
- (C) custos e despesas operacionais
- (D) devoluções e impostos incidentes sobre vendas
- (E) deduções sobre vendas

37

A empresa Vem Demais Comércio Ltda. vendeu mercadorias para um cliente, em 01/12/2010, com prazo de recebimento de 90 dias, emitindo a nota fiscal no valor total de R\$ 10.000,00, que inclui o valor dos encargos financeiros calculados pelo método dos juros compostos, à base de 3% ao mês.

Sem considerar quaisquer impostos ou outros dados envolvidos na operação, o registro contábil da venda a ser feito será:

(A) D – Duplicatas a Receber de Clientes (Ativo Circulante)	R\$ 10.000,00	
C – Receita de Vendas		R\$ 10.000,00
(B) D – Duplicatas a Receber de Clientes (Ativo Circulante)	R\$ 10.000,00	
C – Receita de Vendas		R\$ 9.100,00
C – Receitas Financeiras		R\$ 900,00
(C) D – Duplicatas a Receber de Clientes (Ativo Circulante)	R\$ 10.000,00	
C – Receita de Vendas		R\$ 9.151,42
C – Receitas Financeiras		R\$ 848,58
(D) D – Duplicatas a Receber de Clientes (Ativo Circulante)	R\$ 9.151,42	
D – Duplicatas a Receber de Clientes (Ativo Realizável a Longo Prazo)	R\$ 848,58	
C – Receita de Vendas		R\$ 9.151,42
C – Receitas Financeiras		R\$ 848,58
(E) D – Duplicatas a Receber de Clientes (Ativo Circulante)	R\$ 9.100,00	
D – Duplicatas a Receber de Clientes (Ativo Realizável a Longo Prazo)	R\$ 900,00	
C – Receita de Vendas		R\$ 9.100,00
C – Receitas Financeiras		R\$ 900,00

38

Qual é o lançamento contábil a ser feito quando uma empresa tipicamente comercial adquire mercadorias para seu estoque, considerando que o total da nota fiscal incluía IPI e ICMS (inclusive no valor da mercadoria)?

- (A) D: Estoque de Mercadorias (ATIVO CIRCULANTE)
- D: ICMS a Recuperar (ATIVO CIRCULANTE)
- D: Despesa de IPI (DESPESA)
- C: Fornecedores (PASSIVO CIRCULANTE)
- (B) D: Estoque de Mercadorias (ATIVO CIRCULANTE)
- D: ICMS a Recuperar (ATIVO CIRCULANTE)
- C: Fornecedores (PASSIVO CIRCULANTE)
- (C) D: Estoque de Mercadorias (ATIVO CIRCULANTE)
- D: ICMS a Recuperar (ATIVO CIRCULANTE)
- D: IPI a Recuperar (ATIVO CIRCULANTE)
- C: Fornecedores (PASSIVO CIRCULANTE)
- (D) D: Estoque de Mercadorias (ATIVO CIRCULANTE)
- D: Despesa de ICMS (DESPESA)
- D: Despesa de IPI (DESPESA)
- C: Fornecedores (PASSIVO CIRCULANTE)
- (E) D: Estoque de Mercadorias (ATIVO CIRCULANTE)
- D: Despesa de ICMS (DESPESA)
- C: Fornecedores (PASSIVO CIRCULANTE)

39

A empresa Vendas Mor Comércio Ltda., em 01/06/2011, possuía oitenta peças de seu único item de estoque, que totalizava R\$ 800,00. No dia 10/06/2011, recebeu mais oitenta peças. O valor total da nota fiscal (que incluía 10% de IPI sobre o valor da mercadoria) do fornecedor foi de R\$ 1.100,00. Sobre o valor das mercadorias foi calculado (inclusive) o valor do ICMS à alíquota de 12%.

Sabendo-se que a empresa utiliza o método do custo médio, e que, no dia 30/06/2011, possuía somente 40 peças desse item em estoque, quais foram, respectivamente, os valores do Custo das Mercadorias Vendidas e do Estoque Final da Vendas Mor ao final do mês de junho de 2011?

- (A) R\$ 420,00 e R\$ 1.260,00
- (B) R\$ 1.100,00 e R\$ 1.680,00
- (C) R\$ 1.240,00 e R\$ 440,00
- (D) R\$ 1.260,00 e R\$ 420,00
- (E) R\$ 1.680,00 e R\$ 440,00

40

Considere a relação dos seguintes livros utilizados na escrituração contábil de uma empresa comercial de grande porte: Caixa, Inventário, Entradas de Mercadorias e Saídas de Mercadorias.

Para a empresa, a relação contém **APENAS** livros

- (A) auxiliares
- (B) obrigatórios
- (C) especiais
- (D) societários
- (E) auxiliares e obrigatórios

41

Dentro do exercício, em relação ao resultado econômico da empresa, classificar como despesa um gasto que, na realidade, deveria ser classificado como custo, tratando-se de um produto que permaneça no estoque,

- (A) diminui o resultado porque o valor do gasto figurará subtrativamente, de forma indevida, na Demonstração do Resultado do Exercício.
- (B) aumenta o resultado, à medida que todos os custos de produção independentemente do fato de estarem ou não no estoque, têm de figurar subtrativamente na Demonstração do Resultado do Exercício.
- (C) pode ou não alterar o resultado, dependendo da margem de lucro que o produto venha a apresentar quando de sua futura venda.
- (D) não gera qualquer tipo de impacto, porque irá figurar como custo dos produtos vendidos no exercício subsequente.
- (E) não altera o resultado porque, em qualquer situação (Custo ou Despesa), o valor do gasto irá deduzir o valor das receitas na Demonstração do Resultado do Exercício.

42

Uma empresa iniciou suas atividades em 02/01/2011 e adquiriu R\$ 500.000,00 de materiais, dos quais requisitou metade para fabricação de 2.000 peças de seu único tipo de produto. Ao longo do mês, contabilizou salários e encargos sociais no valor de R\$ 200.000,00, dos quais 55% correspondiam ao pessoal da fábrica, diretamente envolvido no processo de produção. No mesmo período, contabilizou gastos de R\$ 100.000,00 relativos a despesas com aluguéis, energia elétrica, IPTU, salários de vigias, manutenção, depreciação, material de limpeza, material de expediente, etc., 40% dos quais relativos a custos de produção. Em 31/01/2011, verificou que concluiu a fabricação de apenas 1.500 peças, das quais 1.000 peças foram vendidas, cada uma delas com uma margem de lucro de 50% sobre o custo de produção unitário.

Sem considerar outros dados, em 31/01/2011, quais foram, respectivamente, os valores do estoque de produtos acabados e do resultado líquido do período?

- (A) R\$ 450.000,00 e prejuízo de R\$ 50.000,00
- (B) R\$ 200.000,00 e lucro de R\$ 100.000,00
- (C) R\$ 200.000,00 e prejuízo de R\$ 50.000,00
- (D) R\$ 100.000,00 e lucro de R\$ 50.000,00
- (E) R\$ 100.000,00 e prejuízo de R\$ 50.000,00

43

A empresa Ventar Indústrias S/A concluiu, no exercício, a produção de 1.000 unidades de seu único tipo de ventilador. Verificou, em seus registros contábeis, que o total dos custos variáveis no período foi de R\$ 108.000,00 e que os custos fixos totalizaram R\$ 96.000,00. Com relação às despesas, contabilizou, no período, um total de R\$ 16.000,00 de variáveis, e R\$ 20.000,00 de fixas.

Tendo vendido 800 unidades a R\$ 250,00 cada, com base exclusivamente nos dados apresentados, o valor do custo dos produtos vendidos obtido pelo método de custeio por absorção, e o valor da margem de contribuição obtido pelo método de custeio variável são, em reais, respectivamente,

- (A) 163.200,00 e 113.600,00
- (B) 163.200,00 e 127.200,00
- (C) 163.200,00 e 97.600,00
- (D) 127.200,00 e 163.200,00
- (E) 86.400,00 e 97.600,00

44

A classificação usual (mais importante que qualquer outra) e que leva em consideração a relação existente entre o valor total de um custo e o volume de atividade em uma determinada unidade de tempo, divide, basicamente, os custos em

- (A) diretos e plenos
- (B) diretos e indiretos
- (C) semifixos e semivariáveis
- (D) fixos e variáveis
- (E) fixos, variáveis, diretos e indiretos

45

A empresa Wanine Equipamentos S/A apresentou a seguinte sequência de fatos:

- em 30/11/2009, fechou com um cliente um contrato para fornecimento de equipamentos com prazo de entrega definido para 30/11/2010, no valor de R\$ 1.000.000,00;
- em 10/12/2009, recebeu o equivalente a 40% do valor do contrato, a título de adiantamento;
- em 15/12/2009, pagou 10% sobre o valor recebido à empresa de representação comercial que intermediou o negócio, cujo contrato prevê pagamento de comissões equivalentes a 10% sobre cada recebimento efetuado do cliente;
- em 30/11/2010, entregou o equipamento ao cliente, mediante emissão de NFF. O saldo a receber vencerá em 60 dias contados a partir da data de emissão da NFF.

Considere que: essa foi a única operação dos períodos; a operação foi completamente isenta de impostos; e o custo dos produtos vendidos correspondeu a 55% do valor da receita operacional.

Observando a boa técnica e os princípios contábeis, na demonstração do resultado do exercício os resultados líquidos nos anos 2009 e 2010 foram, respectivamente:

- (A) Zero (resultado nulo) e Lucro de R\$ 350.000,00
(B) Prejuízo de R\$ 40.000,00 e Lucro de R\$ 390.000,00
(C) Lucro de R\$ 140.000,00 e Lucro de R\$ 210.000,00
(D) Lucro de R\$ 350.000,00 e Zero (resultado nulo)
(E) Lucro de R\$ 390.000,00 e Prejuízo de R\$ 40.000,00

46

Sob a ótica da gestão da empresa, o método custeio variável proporciona informações vitais aos administradores, pois os resultados por ele apresentados são mais informativos aos tomadores de decisão. Porém, pelo fato de ferir princípios contábeis, não é reconhecido como válido pelos contadores, pelos auditores, nem pelo Fisco.

Quais são os princípios contábeis que o método custeio variável fere?

- (A) Reconhecimento da receita e competência
(B) Materialidade e objetividade
(C) Consistência e relevância
(D) Competência e confrontação
(E) Confrontação e competência

47

Seja P uma grandeza diretamente proporcional a Q e inversamente proporcional a R. Sabe-se que P vale 2 quando Q vale $\frac{2}{7}$ e R vale $\frac{9}{14}$.

Quanto vale P quando Q vale $\sqrt{80}$ e R vale $\sqrt{180}$?

- (A) 3
(B) 2
(C) $\sqrt{2}$
(D) $\frac{1}{2}$
(E) $\frac{1}{3}$

48

Um comerciante compra normalmente seu produto por R\$ 72,00. No último mês, no entanto, conseguiu um desconto de 12,5%. Na hora de marcar, na tabela, o preço de venda do produto, resolveu fazê-lo de modo que, mesmo dando um desconto de 20% sobre o preço de tabela, ainda teria um lucro de 33,33...% sobre o preço de custo do produto.

Qual foi o preço desse produto, em reais, marcado na tabela?

- (A) 63
(B) 84
(C) 90
(D) 105
(E) 108

49

Para a reforma de sua casa, uma pessoa possuía dinheiro para comprar 1.000 tijolos ao preço unitário de R\$ 1,00 cada tijolo. Como a reforma só iniciaria em dois anos, essa pessoa colocou o dinheiro em um investimento que rende 5% ao ano, mas, para seu azar, a inflação anual nesses dois anos foi de 6% ao ano, atingindo justamente o preço do tijolo nessa porcentagem.

Após os dois anos, quantos tijolos essa pessoa pôde comprar com o dinheiro investido?

- (A) 1.000
(B) 990
(C) 984
(D) 964
(E) 960

50

Marcos decide comprar uma televisão anunciada por uma loja a R\$ 2.000,00 pagos em duas prestações, uma de R\$ 1.000,00 após 30 dias, e outra também de R\$ 1.000,00 após 60 dias. Consultando o calendário, ele percebe que no dia do pagamento da primeira parcela ele estará viajando e, então, antecipa o pagamento da primeira prestação, que venceria em um mês, pagando ao caixa da loja R\$ 980,00.

Considerando o desconto comercial simples, quanto, em reais, o caixa deveria cobrar pela segunda prestação, se Marcos decidisse quitá-la no ato da compra?

- (A) 1.000
- (B) 980
- (C) 970
- (D) 960
- (E) 950

RASCUNHO

RASCUNHO